

Всероссийская олимпиада школьников по географии
Школьный этап. 2023-2024 учебный год
8 КЛАСС

1. ЗАДАНИЯ ТЕСТОВОГО ТУРА

24,5

1. Какой из перечисленных вулканов находится в Тихоокеанском сейсмическом поясе?

- А) Камерун Б) Гекла **В) Фудзияма** Г) Этна Д) Везувий

2. В перечне высших точек материков выберите ошибку.

- А) Килиманджаро **Б) Косцюшко** В) Денали Г) Монблан Д) Эверест

3. До 1849 г. Сахалин считался полуостровом. Выберите исследователя, который в ходе своей экспедиции доказал, что Сахалин – это остров.

- А) Ж.Ф. Лаперуз Б) Г.И. Невельской В) В.В. Атласов Г) В.Д. Поярков
Д) Е.П. Хабаров

4. Говорят: «Ока – Волги правая рука». Какую реку можно назвать левой рукой Волги?

- А) Вятка Б) Ахтуба **В) Кама** Г) Кострома Д) Ветлуга

5. На каком из перечисленных полуостровов расположена крайняя восточная материковая точка России?

- А) Камчатка Б) Таймыр **В) Чукотка** Г) Ямал Д) Кольский

6. «Царем» почв В.В. Докучаев назвал:

- А) серые лесные Б) подзолистые **В) черноземные** Г) каштановые
Д) бурые лесные

7. Двухвершинный вулканический конус, который называют по-разному:

«Тысячная гора», «Грива снега», «Гора дня», «Приносящая счастье».

Какую вершину России так называют?

- А) Ключевская сопка Б) Белуха В) Народная **Г) Эльбрус** Д) Казбек

8. Об образовании какого полезного ископаемого идет речь в сказке – были

М.М. Пришвина «Кладовая солнца»: « В болотах вода не дает родителям – растениям передать все свое добро детям, тысячу лет все хранится под водой и становится кладовой солнца, и дается человеку в наследство»?

- А) Газ **Б) Торф** В) Горючий сланец Г) Уголь Д) Нефть

9. Какой архипелаг в российских морях состоит из островов, названных в честь строителей коммунизма?

- 1) А) Северная Земля Б) Земля Франца – Иосифа В) Валаамский архипелаг
 Г) Новая Земля Д) Курильские острова

10. О каком биосферном заповеднике идет речь? « Это царство птиц, их насчитывается около 230 видов. Среди млекопитающих – лисы, выдры, ондатры, выхухоли, бобры. Густо произрастает тростник, а также чилим, рдест, рогоз и лотосы».

- 0) А) Сихотэ-Алинь Б) Астраханский В) Байкальский
 Г) Окский Д) Путоранский

11. Какой город в России отличается тем, что его географические координаты относятся друг к другу как 2:1?

- 1) А) Мурманск Б) Санкт – Петербург В) Пермь
 Г) Волгоград Д) Астрахань

12. Среди перечисленных населённых пунктов, получивших своё название от соляных промыслов, найдите города Ближнего Зарубежья.

- 0) А) Солигорск Б) Усолье В) Соледар Г) Соль-Илецк
 Д) Сольвычегодск

13. Выберите моря, которыми омываются берега полуострова Таймыр.

- 1) А) Баренцево Б) Белое В) Восточно-Сибирское
 Г) Карское Д) Лаптевых

14. Какими бывают оазисы?

- 1) А) антарктическими Б) пустынными В) степными
 Г) таёжными Д) тундровыми

0,25) 15. Какие города России расположены за полярным кругом.

- А) Мурманск Б) Воркута В) Нов.Уренгой Г) Норильск Д) Нарьян -Мар

1) 16. На берегах каких материков можно увидеть пингвинов.

- А) Австралия Б) Африка В) Евразия
 Г) Северная Америка Д) Южная Америка

17. Установите соответствие предложенных понятий, различным сферам Земли.

- 0) А). Курумы Б). Чернь В). Баргузин Г). Глетчер
- 1). Атмосфера 2) Биосфера 3) Гидросфера 4) Литосфера
-

18. По каким природным объектам гидросферы проходит государственная граница России и Китая:

- А) р.Амур Б) р.Аргунь В) оз.Ханка Г) р.Уссури Д) р. Зея

19. Найдите соответствие: природный комплекс – доминирующая древесная порода в его растительном покрове.

- А) Бор Б) Ерник В) Парма Г) Тальник Д) Тугай
 1) Карликовая береза 2) Ель 3) Ива 4) Сосна 5) Тополь

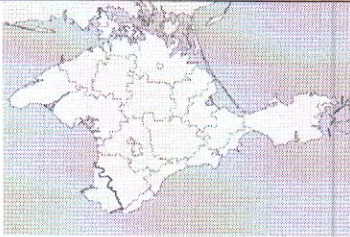


20. Найдите соответствие: историческое название моря и современное.








- А) Нярзомское Б) Понт Аксинское В) Ламское Г) Хвалынское Д) Варяжское
 1) Каспийское 2) Черное 3) Карское 4) Балтийское 5) Охотское

2. Задания теоретического тура

Задание 1. «Знакомые очертания»

Задание из категории «Определи объект по его изображению» посвящен известным полуостровам. Вам предстоит указать название этих полуостровов и ответить на вопросы, касающихся каждого из них. Результат занесите в таблицу.

№	Изображение	Название объекта	Особенности объекта
1.		Крым + 0,5	1. Название полуострова на востоке 2. Название косы на северо-востоке
2.		Саудовская Аравия + 0,5	Две крупные страны, расположенные на этом полуострове: 1. Эмираты + 2. Саудовская Аравия +
3.		—	Две крупные страны, расположенные на этом полуострове: 1..... 2.

4.			Камчатка + 0,5 Тихий океан +	<p>1. Название океана, в который впадает этот полуостров:</p> <p>2. Название региона России, который частично расположен на этом полуострове:</p>
5.			Индия + 0,25	<p>1. Название страны, в основном располагающейся в границах этого полуострова:</p> <p>2. Какой остров расположен на юге.</p>
6.				<p>1. Самая крупная страна на полуострове:</p> <p>2. Залив на северо-востоке полуострова:</p>
7.				<p>1. К территории какой страны относится полуостров:</p> <p>2. Как называется материк между материковой и полуостровной частью</p>
8.				<p>Назовите две страны, территории которых полностью расположены на этом полуострове:</p> <p>1.....;</p> <p>2.....</p>
9.				<p>1. К какой стране относится этот полуостров.:</p> <p>2. Какой залив омывает полуостров с запада:</p>
10.				<p>1. Какая страна занимает практически полностью территорию этого полуострова:</p> <p>2. Какой залив омывает полуостров с востока:</p>

Задание 2.

В стихотворении Сесиль Лупан «Европейские столицы» названы страны и их столицы. Вам необходимо определить какие страны или столицы пропущены. (Название – 0,5 балл)

<p>В самолете мы сидим, Всю Европу облетим, Поглядим с тобой сейчас, Что на ЗАПАДЕ у нас.</p> <p>Вот во <u>Франции</u> (1), в Париже, Башня всех построек выше! 0,5</p> <p>А в <u>Германии</u> (2), в Берлине, Замечательный зверинец. 0,5</p> <p>Город Берн в горах <u>Швейцарии</u> (3) На реке стоит Ааре. 0,5</p> <p>Люди в Бельгии, в <u>Брюсселе</u> (4), Кружева плести умели. 0,5</p> <p>А в <u>Британии</u> (5), без спора, Лондон — самый главный город. 0,5</p> <p>Дальше — в Нидерланды, там Ветер сушит <u>картины</u> (6). 0,5</p> <p>Вот на запад поглядели И на СЕВЕР полетели.</p> <p>Датский город <u>Копенгаген</u> (7) Девочкой-русалкой славен. 0,5</p> <p>В <u>Швеции</u> (8) Стокгольм-столица В воды Балтики глядится. 0,5</p> <p>Город <u>Хельсинки</u> (9) у финнов Возле моря лег в низинах. 0,5</p> <p>Корабли норвежцев рослых Приплывают в город <u>Осло</u> (10). 0,5</p>	<p>Время быстрое бежит, На ВОСТОК наш путь лежит.</p> <p>Велика страна Россия, В ней Москва всего красивей.</p> <p>Вся <u>Румыния</u> (11) гордится Бухарестом как столицей. 0,5</p> <p>В <u>Польше</u> (12) город величавый Называется Варшавой. 0,5</p> <p>А в <u>Болгарии</u> (13), в Софии, Храм Премудрости — Софии. 0,5</p> <p>Помнят в <u>Чехии</u> (14) и в Праге Астронома Тихо Браге. 0,5</p> <p><u>Будапешт</u> (15) венгерский, знай, В голубой глядит Дунай. 0,5</p> <p>А австрийцы непременно Слушать песни едут в <u>Вену</u> (16). 0,5</p> <p>Чтобы нам закончить круг, Направляемся на ЮГ.</p> <p>Над <u>Индией</u> (17) парим, Видим вечный город Рим. 0,5</p> <p>В теплой Греции, в <u>Афинах</u> (18), Много статуй есть старинных. 0,5</p> <p>Португалец, тот влюблен В свой портовый <u>Лиссабон</u> (19). 0,5</p> <p>А в <u>Испании</u> (20) — Мадрид В центре всей страны стоит. 0,5</p>
--	--