

Всероссийская олимпиада школьников по географии
Школьный этап. 2023-2024 учебный год
9 класс

35,29

1. ЗАДАНИЯ ТЕСТОВОГО ТУРА

1. Какой из перечисленных вулканов находится в Тихоокеанском сейсмическом поясе?

- А) Камерун Б) Гекла В) Фудзияма Г) Этна Д) Везувий

2. В перечне высших точек материков выберите ошибку.

- А) Килиманджаро Б) Косцюшко В) Денали Г) Монблан
Д) Эверест

3. До 1849 г. Сахалин считался полуостровом. Выберите исследователя, который в ходе своей экспедиции доказал, что Сахалин – это остров.

- А) Ж.Ф. Лаперуз Б) Г.И. Невельской В) В.В. Атласов
Г) В.Д. Поярков Д) Е.П. Хабаров

4. Говорят: «Ока – Волги правая рука». Какую реку можно назвать левой рукой Волги?

- А) Вятка Б) Ахтуба В) Кама Г) Кострома Д) Ветлуга

5. На каком из перечисленных полуостровов расположена крайняя восточная материковая точка России?

- А) Камчатка Б) Таймыр В) Чукотка Г) Ямал Д) Кольский

6. «Царем» почв В.В. Докучаев назвал:

- А) серые лесные Б) подзолистые В) черноземные
Г) каштановые Д) бурые лесные

7. Двухвершинный вулканический конус, который называют по-разному: «Тысячная гора», «Грива снега», «Гора дня», «Приносящая счастье».

Какую вершину России так называют?

- А) Ключевская сопка Б) Белуха В) Народная
Г) Эльбрус Д) Казбек

8. Об образовании какого полезного ископаемого идет речь в сказке – были М.М. Пришвина «Кладовая солнца»: « В болотах вода не дает родителям – растениям передать все свое добро детям, тысячу лет все хранится под водой и становится кладовой солнца, и дается человеку в наследство»?

- А) Газ Б) Торф В) Горючий сланец Г) Уголь Д) Нефть

9. Какой архипелаг в российских морях состоит из островов, названных в честь строителей коммунизма?

- 1) А) Северная Земля Б) Земля Франца – Иосифа
В) Валаамский архипелаг Г) Новая Земля Д) Курильские острова

10. О каком биосферном заповеднике идет речь? « Это царство птиц, их насчитывается около 230 видов. Среди млекопитающих – лисы, выдры, ондатры, выхухоли, бобры. Густо произрастает тростник, а также *чилим, рдест, рогоз и лотосы*».

- 1) А) Сихотэ-Алинь Б) Астраханский В) Байкальский
Г) Окский Д) Путоранский

11. Какой город в России отличается тем, что его географические координаты относятся друг к другу как 2:1?

- 1) А) Мурманск Б) Санкт – Петербург В) Пермь
Г) Волгоград Д) Астрахань

12. Среди перечисленных населённых пунктов, получивших своё название от соляных промыслов, найдите города Ближнего Зарубежья.

- 0) А) Солигорск Б) Усолье В) Соледар
 Г) Соль-Илецк Д) Сольвычегодск

13. Выберите моря, которыми омываются берега полуострова Таймыр.

- 1) А) Баренцево Б) Белое В) Восточно-Сибирское
 Г) Карское Д) Лаптевых

14. Какими бывают оазисы?

- 0,5) А) антарктическими Б) пустынными В) степными Г) таёжными
Д) тундровыми

15. Какие города России расположены за полярным кругом.

- 0,25) А) Мурманск Б) Воркута В) Нов. Уренгой Г) Норильск
Д) Нарьян-Мар

16. На берегах каких материков можно увидеть пингвинов.

- 0,5) А) Австралия Б) Африка В) Евразия Г) Северная Америка
 Д) Южная Америка

17. Установите соответствие предложенных понятий, различным сферам Земли.

- 0) А) Курумы Б) Чернь В) Баргузин Г) Глетчер
 1) Атмосфера 2) Биосфера 3) Гидросфера 4) Литосфера

А-3, Б-4, В-2, Г-1

18. По каким природным объектам гидросферы проходит государственная граница России и Китая:

- 1) А) р.Амур Б) р.Аргунь В) оз.Ханка Г) р.Уссури Д) р. Зей

19. Найдите соответствие: природный комплекс – доминирующая древесная порода в его растительном покрове.

- 0,4) А) Бор Б) Ерник В) Парма Г) Тальник Д) Тугай
 1) Карликовая береза 2) Ель 3) Ива 4) Сосна 5) Тополь

A-3 B-1 B-4 Г-2 Д-5

20. Найдите соответствие: историческое название моря и современное.

- 1) А) Нярзомское Б) Понт Аксинское В) Ламское Г) Хвалынское
 Д) Варяжское
 1). Каспийское 2) Черное 3) Карское 4) Балтийское
 5) Охотское

1-2 2-Б 3-а 4-Д 5-в
 + + + + +

2. Задания теоретического тура

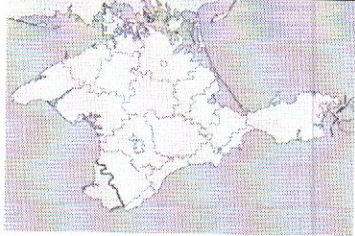





Задание 1.





Учащиеся из разных городов России встретились на конференции. При знакомстве они рассказали о своих родных городах. Прочитай утверждения и определи, из каких городов приехали учащиеся.

- А. Мой город очень древний, ему недавно исполнилось 1000 лет. *Дербент*
 Б. В моём городе река Ока впадает в реку Волга. *Итаничи Новгород* ✓
 В. Я приехала из самого крупного города нашей страны. *Москва* ✓
 Г. Я из крупнейшего города Сибири. *Новосибирск* ✓
 Д. Мой город был основан первым императором страны и тоже является её столицей. *Константинополь* —
 Е. Мой родной город самый большой по числу жителей на Урале. *Челябинск* —
 Ж. Я приехала из крупного портового города Дальнего Востока, который называют «тихоокеанскими воротами России». *Владивосток* ✓
 З. Я из республиканского центра, у которого в названии все гласные буквы одинаковые. *Ташкент* ✓
 И. В моём городе море не замерзает даже в холодные зимы. *Калининград* ✓
 К. Я живу ближе всех к Европе. *Варшава* —

Задание 2. «Знакомые очертания»

Задание из категории «Определи объект по его изображению» посвящен известным полуостровам. Вам предстоит указать название этих полуостровов и ответить на вопросы, касающихся каждого из них. Результат занесите в таблицу.

№	Изображение	Название объекта	Особенности объекта
1.		Крымский полуостров 0,5	1. Название полуострова на востоке Керченский 2. Название косы на северо-востоке Крымская стрелка 0,5
2.		Полуостров Сомали 0,5	Две крупные страны, расположенные на этом полуострове: 1. Сомали 2. Эфиопия 0,5
3.		Иберийский полуостров 0,5	Две крупные страны, расположенные на этом полуострове: 1. Испания 2. Португалия 0,5
4.			1. Название океана, в который вдается этот полуостров: 2. Название региона России, который частично расположен на этом полуострове:
5.		Апеннинский полуостров 0,5	1. Название страны, в основном располагающейся в границах этого полуострова: 2. Какой остров расположен на юге. Италия 0,25
6.		Аравийский полуостров 0,5	1. Самая крупная страна на полуострове: Саудовская Аравия 2. Залив на северо-востоке полуострова: Персидский 0,5

7.		<p>Полуостров Юкатан -тия</p> <p>0,5</p>	<p>1. К территории какой страны относится полуостров: <i>Мексика</i> 0,25</p> <p>2. Как называется материк между материковой и полуостровной частью</p>
8.		<p>—</p>	<p>Назовите две страны, территории которых полностью расположены на этом полуострове:</p> <p>1.....;</p> <p>2.....</p>
9.		<p>Полуостров Флорида</p> <p>0,5</p>	<p>1. К какой стране относится этот полуостров.: <i>США</i> 0,25</p> <p>2. Какой залив омывает полуостров с запада:</p>
10.		<p>—</p>	<p>1. Какая страна занимает практически полностью территорию этого полуострова:</p> <p>2. Какой залив омывает полуостров с востока:</p>

Задание 3.

В стихотворении Сесиль Лупан «Европейские столицы» названы страны и их столицы. Вам необходимо определить какие страны или столицы пропущены. (Название – 0,5 балл)

В самолете мы сидим, Всю Европу облетим, Поглядим с тобой сейчас, Что на ЗАПАДЕ у нас.	Время быстрое бежит, На ВОСТОК наш путь лежит.
Вот во <u>Франции</u> (1), в Париже, Башня всех построек выше! 0,5	Велика страна Россия, В ней Москва всего красивей.
А в <u>Германии</u> (2), в Берлине, Замечательный зверинец. 0,5	Вся <u>Румыния</u> (11) гордится Бухарестом как столицей. 0,5
Город Берн в горах <u>Швейцарии</u> (3) На реке стоит Ааре. 0,5	В <u>Польше</u> (12) город величавый Называется Варшавой. 0,5
Люди в Бельгии, в <u>Брюсселе</u> (4), Кружева плести умели. 0,5	А в <u>Болгарии</u> (13), в Софии, Храм Премудрости — Софии. 0,5
А в <u>Британии</u> (5), без спора, Лондон — самый главный город. 0,5	Помнят в <u>Чехии</u> (14) и в Праге Астронома Тихо Браге. 0,5
Дальше — в Нидерланды, там Ветер сушит <u>Амстердам</u> (6). 0,5	<u>Будапешт</u> (15) венгерский, знай, В голубой глядит Дунай. 0,5
Вот на запад поглядели И на СЕВЕР полетели.	А австрийцы непременно Слушать песни едут в <u>Вену</u> (16). 0,5
Датский город <u>Копенгаген</u> (7) Девочкой-русалкой славен. 0,5	Чтобы нам закончить круг, Направляемся на ЮГ.
В <u>Швеции</u> (8) Стокгольм-столица В воды Балтики глядится. 0,5	Над <u>Италией</u> (17) парим, Видим вечный город Рим. 0,5
Город <u>Хельсинки</u> (9) у финнов Возле моря лег в низинах. 0,5	В теплой Греции, в <u>Афинах</u> (18), Много статуй есть старинных. 0,5
Корабли норвежцев рослых Приплывают в город <u>Осло</u> (10). 0,5	Португалец, тот влюблен В свой портовый <u>Лиссабон</u> (19). 0,5
	А в <u>Испании</u> (20) — Мадрид В центре всей страны стоит. 0,5