

Всероссийская олимпиада школьников по географии  
Школьный этап. 2023-2024 учебный год  
9 класс

32,75

## 1. ЗАДАНИЯ ТЕСТОВОГО ТУРА

1. Какой из перечисленных вулканов находится в Тихоокеанском сейсмическом поясе?

- А) Камерун      Б) Гекла       В) Фудзияма      Г) Этна      Д) Везувий

2. В перечне высших точек материков выберите ошибку.

- А) Килиманджаро      Б) Косцюшко      В) Денали       Г) Монблан  
Д) Эверест

3. До 1849 г. Сахалин считался полуостровом. Выберите исследователя, который в ходе своей экспедиции доказал, что Сахалин – это остров.

- А) Ж.Ф. Лаперуз       Б) Г.И. Невельской      В) В.В. Атласов  
Г) В.Д. Поярков      Д) Е.П. Хабаров

4. Говорят: «Ока – Волги правая рука». Какую реку можно назвать левой рукой Волги?

- А) Вятка      Б) Ахтуба       В) Кама      Г) Кострома      Д) Ветлуга

5. На каком из перечисленных полуостровов расположена крайняя восточная материковая точка России?

- А) Камчатка      Б) Таймыр      В) Чукотка      Г) Ямал       Д) Кольский

6. «Царем» почв В.В. Докучаев назвал:

- А) серые лесные      Б) подзолистые       В) черноземные  
Г) каштановые      Д) бурые лесные

7. Двухвершинный вулканический конус, который называют по-разному: «Тысячная гора», «Грива снега», «Гора дня», «Приносящая счастье».

Какую вершину России так называют?

- А) Ключевская сопка      Б) Белуха      В) Народная  
 Г) Эльбрус      Д) Казбек

8. Об образовании какого полезного ископаемого идет речь в сказке – были М.М. Пришвина «Кладовая солнца»: « В болотах вода не дает родителям – растениям передать все свое добро детям, тысячу лет все хранится под водой и становится кладовой солнца, и дается человеку в наследство»?

- А) Газ      Б) Торф       В) Горючий сланец      Г) Уголь      Д) Нефть

9. Какой архипелаг в российских морях состоит из островов, названных в честь строителей коммунизма?

- 1  А) Северная Земля      Б) Земля Франца – Иосифа  
 В) Валаамский архипелаг      Г) Новая Земля      Д) Курильские острова

10. О каком биосферном заповеднике идет речь? « Это царство птиц, их насчитывается около 230 видов. Среди млекопитающих – лисы, выдры, ондатры, выхухоли, бобры. Густо произрастает тростник, а также *чили́м, рдест, розог и лотосы*».

- 1  А) Сихотэ-Алинь       Б) Астраханский      В) Байкальский  
 Г) Окский      Д) Путоранский

11. Какой город в России отличается тем, что его географические координаты относятся друг к другу как 2:1?

- 1  А) Мурманск       Б) Санкт – Петербург      В) Пермь  
 Г) Волгоград      Д) Астрахань

12. Среди перечисленных населённых пунктов, получивших своё название от соляных промыслов, найдите города Ближнего Зарубежья.

- 0  А) Солигорск      Б) Усолье      В) Соледар  
 Г) Соль-Илецк      Д) Сольвычегодск

13. Выберите моря, которыми омываются берега полуострова Таймыр.

- 0,5  А) Баренцево      Б) Белое       В) Восточно-Сибирское  
 Г) Карское      Д) Лаптевых

14. Какими бывают оазисы?

- 0,5  А) антарктическими      Б) пустынными      В) степными      Г) таёжными  
 Д) тундровыми

15. Какие города России расположены за полярным кругом.

- 0,5  А) Мурманск      Б) Воркута      В) Нов. Уренгой      Г) Норильск  
 Д) Нарьян-Мар

16. На берегах каких материков можно увидеть пингвинов.

- 0,5  А) Австралия      Б) Африка      В) Евразия      Г) Северная Америка  
 Д) Южная Америка

17. Установите соответствие предложенных понятий, различным сферам Земли.

- 0 А). Курумы      Б). Чернь      В). Баргузин      Г). Глетчер  
 1). Атмосфера      2) Биосфера      3) Гидросфера      4) Литосфера

А-3      Б-1      В-2      Г-4

18. По каким природным объектам гидросферы проходит государственная граница России и Китая:

- 1) А) р.Амур      Б) р.Аргунь      В) оз.Ханка      Г) р.Уссури      Д) р. Зей

19. Найдите соответствие: природный комплекс – доминирующая древесная порода в его растительном покрове.

- 0) А) Бор                      Б) Ерник      В) Парма      Г) Тальник      Д) Тугай  
 1) Карликовая береза    2) Ель        3) Ива        4) Сосна        5) Тополь  
 1-б+                      2-а-                      3-в-                      4-г-                      5-д-

20. Найдите соответствие: историческое название моря и современное.

- А) Нярзомское      Б) Понт Аксинское      В) Ламское      Г) Хвалынское  
 Д) Варяжское  
 1). Каспийское    2) Черное                      3) Карское                      4) Балтийское  
 5) Охотское

- 1) 1-г+      2-б+                      3-а+                      4-д+                      5-в+

## 2. Задания теоретического тура

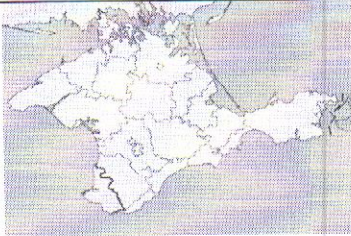





### Задание 1.





Учащиеся из разных городов России встретились на конференции. При знакомстве они рассказали о своих родных городах. Прочитай утверждения и определи, из каких городов приехали учащиеся.

- А. Мой город очень древний, ему недавно исполнилось 1000 лет. *Дербент -*  
 Б. В моём городе река Ока впадает в реку Волга. *Нижегород -*  
 В. Я приехала из самого крупного города нашей страны. *Москва -*  
 Г. Я из крупнейшего города Сибири. *Новосибирск -*  
 Д. Мой город был основан первым императором страны и тоже является её столицей. *Константинополь -*  
 Е. Мой родной город самый большой по числу жителей на Урале. *Троицк -*  
 Ж. Я приехала из крупного портового города Дальнего Востока, который называют «тихоокеанским воротами России». *Владивосток -*  
 З. Я из республиканского центра, у которого в названии все гласные буквы одинаковые. *Йошкар -*  
 И. В моём городе море не замерзает даже в холодные зимы. *Калининград -*  
 К. Я живу ближе всех к Европе. *Озерск -*

## Задание 2. «Знакомые очертания»

Задание из категории «Определи объект по его изображению» посвящено известным полуостровам. Вам предстоит указать название этих полуостровов и ответить на вопросы, касающихся каждого из них. Результат занесите в таблицу.

№	Изображение	Название объекта	Особенности объекта
1.		Крымский полуостров 0,5	1. Название полуострова на востоке Керченский 0,5 2. Название косы на северо-востоке Арбатская стрелка
2.		Полуостров Сомахи 0,5	Две крупные страны, расположенные на этом полуострове: 1..... <del>Италия</del> Сомахи 0,5 2..... <del>Франция</del> Гориция
3.		—	Две крупные страны, расположенные на этом полуострове: 1..... 2.....
4.		Полуостров Камчатка 0,5	1. Название океана, в который впадает этот полуостров: Тихий 2. Название региона России, который частично расположен на этом полуострове: Камчатский край 0,5
5.		Апеннинский полуостров 0,5	1. Название страны, в основном располагающейся в границах этого полуострова: . 2. Какой остров расположен на юге. Италия 0,25
6.		Аравийский полуостров 0,5	1. Самая крупная страна на полуострове: Саудовская Аравия 2. Залив на северо-востоке полуострова: Персидский 0,5

7.		Полуостров Калифорния 0,5	1. К территории какой страны относится полуостров: Мексика 2. Как называется материк между материковой и полуостровной частью 0,25
8.		Скандинавский полуостров 0,5	Назовите две страны, территории которых полностью расположены на этом полуострове: 1.....; Норвегия 0,15 2..... Швеция 0,15
9.		Полуостров Флорида 0,5	1. К какой стране относится этот полуостров: США 0,25 2. Какой залив омывает полуостров с запада:
10.		Полуостров Индостан 0,5	1. Какая страна занимает практически полностью территорию этого полуострова: Индия 0,25 2. Какой залив омывает полуостров с востока:

## Задание 3.

В стихотворении Сесиль Лупан «Европейские столицы» названы страны и их столицы. Вам необходимо определить какие страны или столицы пропущены. (Название – 0,5 балл)

<p>В самолете мы сидим, Всю Европу облетим, Поглядим с тобой сейчас, Что на ЗАПАДЕ у нас.</p> <p>Вот во <u>Франции</u> (1), в Париже, 0,5 Башня всех построек выше!</p> <p>А в <u>Германии</u> (2), в Берлине, 0,5 Замечательный зверинец.</p> <p>Город Берн в горах <u>Швейцарии</u> (3) 0,5 На реке стоит Ааре.</p> <p>Люди в Бельгии, в <u>Брюсселе</u> (4), 0,5 Кружева плести умели.</p> <p>А в <u>Британии</u> (5), без спора, 0,5 Лондон — самый главный город.</p> <p>Дальше — в Нидерланды, там Ветер сушит <u>Амстердам</u> (6). 0,5</p> <p>Вот на запад поглядели И на СЕВЕР полетели.</p> <p>Датский город <u>Копенгаген</u> (7) 0,5 Девочкой-русалкой славен.</p> <p>В <u>Швеции</u> (8) Стокгольм-столица 0,5 В воды Балтики глядится.</p> <p>Город <u>Хельсинки</u> (9) у финнов 0,5 Возле моря лег в низинах.</p> <p>Корабли норвежцев рослых Приплывают в город <u>Осло</u> (10). 0,5</p>	<p>Время быстрое бежит, На ВОСТОК наш путь лежит.</p> <p>Велика страна Россия, В ней Москва всего красивей.</p> <p>Вся <u>Румыния</u> (11) гордится 0,5 Бухарестом как столицей.</p> <p>В <u>Польше</u> (12) город величавый 0,5 Называется Варшавой. 0,5</p> <p>А в <u>Болгарии</u> (13), в Софии, 0,5 Храм Премудрости — Софии.</p> <p>Помнят в <u>Германии</u> (14) и в Праге 0,5 Астронома Тихо Браге.</p> <p><u>Будапешт</u> (15) венгерский, знай, 0,5 В голубой глядит Дунай.</p> <p>А австрийцы непременно Слушать песни едут в <u>Вену</u> (16). 0,5</p> <p>Чтобы нам закончить круг, Направляемся на ЮГ.</p> <p>Над <u>Италией</u> (17) парим, 0,5 Видим вечный город Рим.</p> <p>В теплой Греции, в <u>Афинах</u> (18), 0,5 Много статуй есть старинных.</p> <p>Португалец, тот влюблен В свой портовый <u>Лиссабон</u> (19). 0,5</p> <p>А в <u>Испании</u> (20) — Мадрид 0,5 В центре всей страны стоит.</p>
--	--