

Всероссийская олимпиада школьников по географии
Школьный этап. 2023-2024 учебный год
9 класс

30,5/45

1. ЗАДАНИЯ ТЕСТОВОГО ТУРА

1. Какой из перечисленных вулканов находится в Тихоокеанском сейсмическом поясе?

- А) Камерун Б) Гекла В) Фудзияма Г) Этна Д) Везувий

2. В перечне высших точек материков выберите ошибку.

- А) Килиманджаро Б) Косцюшко В) Денали Г) Монблан
Д) Эверест

3. До 1849 г. Сахалин считался полуостровом. Выберите исследователя, который в ходе своей экспедиции доказал, что Сахалин – это остров.

- А) Ж.Ф. Лаперуз Б) Г.И. Невельской В) В.В. Атласов
Г) В.Д. Поярков Д) Е.П. Хабаров

4. Говорят: «Ока – Волги правая рука». Какую реку можно назвать левой рукой Волги?

- А) Вятка Б) Ахтуба В) Кама Г) Кострома Д) Ветлуга

5. На каком из перечисленных полуостровов расположена крайняя восточная материковая точка России?

- А) Камчатка Б) Таймыр В) Чукотка Г) Ямал Д) Кольский

6. «Царем» почв В.В. Докучаев назвал:

- А) серые лесные Б) подзолистые В) черноземные
Г) каштановые Д) бурые лесные

7. Двухвершинный вулканический конус, который называют по разному: «Тысячная гора», «Грива снега», «Гора дня», «Приносящая счастье».

Какую вершину России так называют?

- А) Ключевская сопка Б) Белуха В) Народная
Г) Эльбрус Д) Казбек

8. Об образовании какого полезного ископаемого идет речь в сказке – были М.М. Пришвина «Кладовая солнца»: « В болотах вода не дает родителям – растениям передать все свое добро детям, тысячу лет все хранится под водой и становится кладовой солнца, и дается человеку в наследство»?

- А) Газ Б) Торф В) Горючий сланец Г) Уголь Д) Нефть

9. Какой архипелаг в российских морях состоит из островов, названных в честь строителей коммунизма?

- 1) А) Северная Земля Б) Земля Франца – Иосифа
 В) Валаамский архипелаг Г) Новая Земля Д) Курильские острова

10. О каком биосферном заповеднике идет речь? « Это царство птиц, их насчитывается около 230 видов. Среди млекопитающих – лисы, выдры, ондатры, выхухоли, бобры. Густо произрастает тростник, а также *чили́м, рдест, рогоз и лотосы*».

- 1) А) Сихотэ-Алинь Б) Астраханский В) Байкальский
 Г) Окский Д) Путоранский

11. Какой город в России отличается тем, что его географические координаты относятся друг к другу как 2:1?

- 1) А) Мурманск Б) Санкт – Петербург В) Пермь
 Г) Волгоград Д) Астрахань

12. Среди перечисленных населённых пунктов, получивших своё название от соляных промыслов, найдите города Ближнего Зарубежья.

- 0) А) Солигорск Б) Усолье В) Соледар
 Г) Соль-Илецк Д) Сольвычегодск

13. Выберите моря, которыми омываются берега полуострова Таймыр.

- 1) А) Баренцево Б) Белое В) Восточно-Сибирское
 Г) Карское Д) Лаптевых

14. Какими бывают оазисы?

- 0,5) А) антарктическими Б) пустынными В) степными Г) таёжными
 Д) тундровыми

15. Какие города России расположены за полярным кругом.

- 0) А) Мурманск Б) Воркута В) Нов. Уренгой Г) Норильск
 Д) Нарьян-Мар

16. На берегах каких материков можно увидеть пингвинов.

- 0,5) А) Австралия Б) Африка В) Евразия Г) Северная Америка
 Д) Южная Америка

17. Установите соответствие предложенных понятий, различным сферам Земли.

- 0,25) А). Курумы Б). Чернь В). Баргузин Г). Глетчер
 1). Атмосфера 2) Биосфера 3) Гидросфера 4) Литосфера

18. По каким природным объектам гидросферы проходит государственная граница России и Китая:

- 05
 А) р.Амур Б) р.Аргунь В) оз.Ханка Г) р.Уссури Д) р. Зей

19. Найдите соответствие: природный комплекс – доминирующая древесная порода в его растительном покрове.

- 04
 А) Бор Б) Ериик В) Парма Г) Тальник Д) Тугай
 1) Карликовая береза 2) Ель 3) Ива 4) Сосна 5) Тополь

20. Найдите соответствие: историческое название моря и современное.

- 0
 А) Нярозомское Б) Понт Аксинское В) Ламское Г) Хвалынское
 Д) Варяжское
 1) Каспийское 2) Черное 3) Карское 4) Балтийское
 5) Охотское

2. Задания теоретического тура

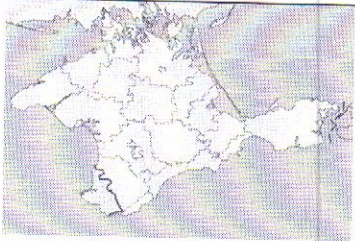



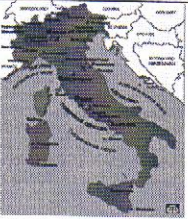
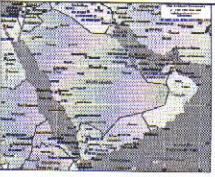
Задание 1.





Учащиеся из разных городов России встретились на конференции. При знакомстве они рассказали о своих родных городах. Прочитай утверждения и определи, из каких городов приехали учащиеся.

- А. Мой город очень древний, ему недавно исполнилось 1000 лет. *Брянск* —
 Б. В моём городе река Ока впадает в реку Волга. *Мининский Новгород* —
 В. Я приехала из самого крупного города нашей страны. *Москва* —
 Г. Я из крупнейшего города Сибири. *Новосибирск* —
 Д. Мой город был основан первым императором страны и тоже является её столицей. *Санкт-Петербург* —
 Е. Мой родной город самый большой по числу жителей на Урале. *Челябинск* —
 Ж. Я приехала из крупного портового города Дальнего Востока, который называют «тихоокеанским воротами России». *Владивосток* —
 З. Я из республиканского центра, у которого в названии все гласные буквы одинаковые. *Иркутск* —
 И. В моём городе море не замерзает даже в холодные зимы. *Сочи* —
 К. Я живу ближе всех к Европе. *Калининград* —
Владивосток

Задание 2. «Знакомые очертания»

Задание из категории «Определи объект по его изображению» посвящено известным полуостровам. Вам предстоит указать название этих полуостровов и ответить на вопросы, касающихся каждого из них. Результат занесите в таблицу.

№	Изображение	Название объекта	Особенности объекта
1.		Крымский 2. Таманский	1. Название полуострова на востоке 2. Название косы на северо-востоке
2.		—	Две крупные страны, расположенные на этом полуострове: 1. 2.
3.		—	Две крупные страны, расположенные на этом полуострове: 1. 2.
4.		Тихий океан 0,25	1. Название океана, в который вдается этот полуостров: 2. Название региона России, который частично расположен на этом полуострове:
5.		1. Италия 2. Сицилия 0,15	1. Название страны, в основном располагающейся в границах этого полуострова: 2. Какой остров расположен на юге.
6.			1. Самая крупная страна на полуострове: 2. Залив на северо-востоке полуострова:

7.			<p>1. К территории какой страны относится полуостров:</p> <p>2. Как называется материк между материковой и полуостровной частью</p>
8.			<p>Назовите две страны, территории которых полностью расположены на этом полуострове:</p> <p>1.....;</p> <p>2.....</p>
9.			<p>1. К какой стране относится этот полуостров:.</p> <p>2. Какой залив омывает полуостров с запада:</p>
10.			<p>1. Какая страна занимает практически полностью территорию этого полуострова:</p> <p>2. Какой залив омывает полуостров с востока:</p>

Задание 3.

В стихотворении Сесиль Лупан «Европейские столицы» названы страны и их столицы. Вам необходимо определить какие страны или столицы пропущены. (Название – 0,5 балл)

В самолете мы сидим, Всю Европу облетим, Поглядим с тобой сейчас, Что на ЗАПАДЕ у нас.	Время быстрое бежит, На ВОСТОК наш путь лежит.
Вот во <u>Ромы</u> (1), в Париже, Башня всех построек выше! 0,5	Велика страна Россия, В ней Москва всего красивей.
А в <u>Германи</u> (2), в Берлине, Замечательный зверинец. 0,5	Вся <u>Румыния</u> (11) гордится Бухарестом как столицей. 0,5
Город Берн в горах <u>Швейцарии</u> (3) На реке стоит Ааре. 0,5	В <u>Польше</u> (12) город величавый Называется Варшавой. 0,5
Люди в Бельгии, в <u>Брюсселе</u> (4), Кружева плести умели. 0,5	А в <u>Болгарии</u> (13), в Софии, Храм Премудрости — Софии. 0,5
А в <u>Британии</u> (5), без спора, Лондон — самый главный город. 0,5	Помнят в <u>Чехии</u> (14) и в Праге Астронома Тихо Браге. 0,5
Дальше — в Нидерланды, там Ветер сушит <u>Амстердам</u> (6). 0,5	<u>Будапешт</u> (15) венгерский, знай, В голубой глядит Дунай. 0,5
Вот на запад поглядели И на СЕВЕР полетели.	А австрийцы непременно Слушать песни едут в <u>Вену</u> (16). 0,5
Датский город <u>Копенгаген</u> (7) Девочкой-русалкой славен. 0,5	Чтобы нам закончить круг, Направляемся на ЮГ.
В <u>Швеции</u> (8) Стокгольм-столица В воды Балтики глядится. 0,5	Над <u>Италией</u> (17) парим, Видим вечный город Рим. 0,5
Город <u>Хельсинки</u> (9) у финнов Возле моря лег в низинах. 0,5	В теплой Греции, в <u>Афинах</u> (18), Много статуй есть старинных. 0,5
Корабли норвежцев рослых Приплывают в город <u>Осло</u> (10). 0,5	Португалец, тот влюблен В свой портовый <u>Лиссабон</u> (19). 0,5
	А в <u>Испании</u> (20) — Мадрид В центре всей страны стоит. 0,5