

4/3 25

Всероссийская олимпиада школьников по истории.

Школьный этап. 5 класс.

2023-2024 учебный год.

(Время выполнения работы – 60 минут)

Выберите правильный ответ.

1. Палка-копалка, дубина, заостренный камень – это

- А) технологическое оборудование;
Б) древнейшие орудия труда;
В) предметы, изготавливаемые обезьянами.

Ответ: Б

0

2. Несколько родовых общин, живущих в одной местности, составляли

- А) племя; Б) семью; В) союз племен.

Ответ: А

2

3. Вера в существование в природе сверхъестественных сил называется

- А) колдовством; Б) искусством; В) религией.

Ответ: В

2

4. Предполагаемой областью прародинны человека является

- А) Северная Европа; Б) Восточная Африка; В) Южная Австралия.

Ответ: Б

2

5. Древние люди вместе охотились, занимались собирательством, заботились о детях, защищались от чужаков. Все они считались

- А) друзьями; Б) согражданами; В) сородичами.

Ответ: В

2

6. Земледелие возникло

- А) примерно 2 млн. лет назад;
- Б) примерно 40 тыс. лет назад;
- В) примерно 10 тыс. лет назад.

Ответ: Б

2

7. Земледелие и постоянные поселения. Что связывает эти понятия?

- А) появление постоянных поселений было причиной возникновения земледелия;
- Б) земледелие сделало возможным появление постоянных поселений;
- В) эти явления никак не связаны.

Ответ: Б

2

8. Важнейшим изобретением первобытных людей является

- А) пурпурная краска;
- Б) письменность;
- В) лук и стрелы.

Ответ: Б

2

9. Египтяне называли свою страну «даром Нила». Это название объясняется тем, что:

- А) боги подарили египтянам Нил;
- Б) каждый день египтяне приносили Нилу жертву;
- В) Нил орошает земли речной долины, удобряет их илом и делает плодородными.

Ответ: В

2


10. После объединения Верхнего и Нижнего Египта столицей стал город

- А) Фивы;
- Б) Ахетатон;
- В) Мемфис.

Ответ: А

0

11. Решите ребус.



история
 Ответ: костюм

3

12. Чарльз Дарвин был первым ученым, который предложил гипотезу о том, что все предки человека разумного произошли из Африки. Где были найдены самые первые останки древнего человека?

А) в Египте Б) в Эфиопии В) в Зимбабве Г) в Ливии 0

Ответ: д

13. Составьте из набора букв название науки – помощницы истории. Какая из представленных картинок не относится к этой науке?

я	и	о	е	о	х	л	р	г	а
---	---	---	---	---	---	---	---	---	---



1



2



3



4

А) 1 Б) 2 В) 3 Г) 4

3

Ответ: 2 /

14. В гроте Тешик-Таш во время археологических раскопок было найдено 339 каменных орудий и свыше 10 тыс. обломков костей животных. Из общего количества костей удалось установить

принадлежность 938. Из них лошади – 2, медведя – 2, горного козла – 767, леопарда – 1.

Определите главное занятие обитателей грота Тешик-Таш.

Ответ: археологи

0

15. Напишите название архитектурного сооружения, о котором идет речь.

Оно возвышается над пустыней более чем на 150 м. В его постройке использовалось как гробница.

3

Ответ: пирамида

16. Об изобретении чего говорится в тексте?

Однажды финикийский торговый корабль, который вез груз соды, пристал к песчаному берегу. Купцы решили пообедать, развели огонь, достали котелки, но не нашли камней, на которые можно было бы их поставить. Тогда они вместо камней использовали взятые с корабля куски соды. Огонь был сильным, сода расплавилась и смешалась с песком и ракушками; от костра потекли струи прозрачной жидкости. Эта жидкость, застыв, превратилась в ...


65

А) фарфор Б) бронза В) стекло Г) кирпич

Ответ: В

17. Соотнесите объекты, показанные на изображениях, с местами, где они находятся или находились:


А) Рим Б) Ур В) Греция Г) Египет Д) Индия



Ответ:

А	Б	В	Г	Д
4	2	5	2	3

18. Перед вами изображения памятников архитектуры и искусства. Соотнеси изображение и место его расположения. Ответ запиши в строчку без пробелов и запятых, где буква будет соответствовать порядковому номеру рисунка.



А) Колосс Родосский

Б) Фаросский маяк

В) Статуя Зевса в Олимпии

Г) Висячие сады Семирамиды

Ответ: 3, 4, 2, 1

19. Решите анаграммы и выберите слово, выпадающее из логического ряда.

1. НАБЛИНГА

2. ТАИЛЬМИД

3. КЛИРЕП

4. РЕМОГ

Ответ: 4

20. Определи понятия по определениям. Найди данные понятия в таблице букв, передвигаясь слева направо и (или) сверху вниз. Из всех оставшихся незадействованными букв составь слово, обозначающее занятие людей.

з	е	м	л	е	д	м
н	е	а	н	д	е	о
и	с	т	о	е	л	т
о	х	о	р	р	и	ы
р	о	т	и	т	е	г
г	д	а	я	а	л	а
а	р	п	у	н	е	ц

1. Примитивное земледельческое орудие, состоящее из палки и приделанного к ней деревянного или каменного клинка или скребка.
2. Вид древнего человека, который получил название от долины в Германии, где были найдены его кости.
3. Наука изучающая прошлое человечества.
4. Древнее орудие труда предназначенное для ловли рыбы.
5. Важнейшее занятие первобытного человека.
6. Кровнородственное объединение людей.

Ответ:

1. Мотыга,
2. неандерталец
3. история
4. орудия
5. ~~охота~~ земледелие
6. род

18

55