

**Всероссийская олимпиада школьников по истории.****Школьный этап. 5 класс.****2023-2024 учебный год.****(Время выполнения работы – 60 минут)****Выберите правильный ответ.****1. Палка-копалка, дубина, заостренный камень – это**

- А) технологическое оборудование;  
Б) древнейшие орудия труда;  
В) предметы, изготавливаемые обезьянами.

Ответ: Б

2

**2. Несколько родовых общин, живущих в одной местности, составляли**

- А) племя;                      Б) семью;                      В) союз племен.

Ответ: А

2

**3. Вера в существование в природе сверхъестественных сил называется**

- А) колдовством;              Б) искусством;              В) религией.

Ответ: В

2

**4. Предполагаемой областью прародины человека является**

- А) Северная Европа;              Б) Восточная Африка;              В) Южная Австралия.

Ответ: Б

2

**5. Древние люди вместе охотились, занимались собирательством, заботились о детях, защищались от чужаков. Все они считались**

- А) друзьями;                      Б) согражданами;                      В) сородичами.

Ответ: В

2

**6. Земледелие возникло**

- А) примерно 2 млн. лет назад;
- Б) примерно 40 тыс. лет назад;
- В) примерно 10 тыс. лет назад.

Ответ: Б

0

**7. Земледелие и постоянные поселения. Что связывает эти понятия?**

- А) появление постоянных поселений было причиной возникновения земледелия;
- Б) земледелие сделало возможным появление постоянных поселений;
- В) эти явления никак не связаны.

Ответ: Б

2

**8. Важнейшим изобретением первобытных людей является**

- А) пурпурная краска;
- Б) письменность;
- В) лук и стрелы.

Ответ: В

2

**9. Египтяне называли свою страну «даром Нила». Это название объясняется тем, что:**

- А) боги подарили египтянам Нил;
- Б) каждый день египтяне приносили Нилу жертву;
- В) Нил орошает земли речной долины, удобряет их илом и делает плодородными.

Ответ: В

2


**10. После объединения Верхнего и Нижнего Египта столицей стал город**

- А) Фивы;
- Б) Ахетатон;
- В) Мемфис.

Ответ: А

0

**11. Решите ребус.**



Ответ: история

2

12. Чарльз Дарвин был первым ученым, который предложил гипотезу о том, что все предки человека разумного произошли из Африки. Где были найдены самые первые останки древнего человека?


- А) в Египте      Б) в Эфиопии      В) в Зимбабве      Г) в Ливии

Ответ: Г

0

13. Составьте из набора букв название науки – помощницы истории. Какая из представленных картинок не относится к этой науке?

я	и	о	е	о	х	л	р	г	а
---	---	---	---	---	---	---	---	---	---



- А) 1      Б) 2      В) 3      Г) 4

Ответ: орхидология / 47

6

14. В гроте Тешик-Таш во время археологических раскопок было найдено 339 каменных орудий и свыше 10 тыс. обломков костей животных. Из общего количества костей удалось установить

принадлежность 938. Из них лошади – 2, медведя – 2, горного козла – 767, леопарда – 1.

Определите главное занятие обитателей грота Тешик-Таш.

Ответ: охота

2

15. Напишите название архитектурного сооружения, о котором идет речь.

Оно возвышается над пустыней более чем на 150 м. В его постройке использовалось как гробница.

Ответ: пирамида

3

16. Об изобретении чего говорится в тексте?

Однажды финикийский торговый корабль, который вез груз соды, пристал к песчаному берегу. Купцы решили пообедать, развели огонь, достали котелки, но не нашли камней, на которые можно было бы их поставить. Тогда они вместо камней использовали взятые с корабля куски соды. Огонь был сильным, сода расплавилась и смешалась с песком и ракушками; от костра потекли струи прозрачной жидкости. Эта жидкость, застыв, превратилась в ... .



А) фарфор      Б) бронза      В) стекло      Г) кирпич

Ответ: В

6

17. Соотнесите объекты, показанные на изображениях, с местами, где они находятся или находились:

А) Рим      Б) Ур      В) Греция      Г) Египет      Д) Индия





Ответ:

А	Б	В	Г	Д
<del>А</del> 1	Б 2	4	5	3

2

18. Перед вами изображения памятников архитектуры и искусства. Соотнеси изображение и место его расположения. Ответ запиши в строчку без пробелов и запятых, где буква будет соответствовать порядковому номеру рисунка.



А) Колосс Родосский

Б) Фаросский маяк

В) Статуя Зевса в Олимпии

Г) Висячие сады Семирамиды

Ответ: А3/В4/Б2/Г1

12.

19. Решите анаграммы и выберите слово, выпадающее из логического ряда.

1. НАБЛИНГА

2. ТАЙЛЬМИД

3. КЛИРЕП

4. РЕМОГ

ГАНЦЕБАЛ

Мидотиль  
Анграмм

перчки

гамор

Ответ: ГАНЦЕБАЛ

4

20. Определи понятия по определениям. Найди данные понятия в таблице букв, передвигаясь слева направо и (или) сверху вниз. Из всех оставшихся незадействованными букв составь слово, обозначающее занятие людей.

з	е	м	л	е	д	м
н	е	а	н	д	е	о
и	с	т	о	е	л	т
о	х	о	р	р	и	ы
р	о	т	и	т	е	г
г	д	а	я	а	л	а
а	р	п	у	н	е	ц

1. Примитивное земледельческое орудие, состоящее из палки и приделанного к ней деревянного или каменного клинка или скребка.
2. Вид древнего человека, который получил название от долины в Германии, где были найдены его кости.
3. Наука изучающая прошлое человечества.
4. Древнее орудие труда предназначенное для ловли рыбы.
5. Важнейшее занятие первобытного человека.
6. Кровнородственное объединение людей.

**Ответ:**

1) МОТЫГА

2) НЕАНДЕРТАЛЕЦ

3) ИСТОРИЯ

4) РАДУГА

5) ОХОТА

6) РОД

12.

535