

Всероссийская олимпиада школьников по истории.

Школьный этап. 6 класс.

2023-2024 учебный год.

(Время выполнения работы – 60 минут)

*Выберите правильный ответ.***1. Как назывались записи по годам событий в XI – XVI вв. на Руси?**

- А) летопись Б) былины В) хроники Г) сказы

2

Ответ: а**2. Назовите князя, провозгласившего Киев столицей Древнерусского государства.**

- А) Рюрик Б) Игорь В) Олег Г) Святослав

2

Ответ: в**3. Найдите лишнее в ряду.**

- А) папа Б) аббаты В) рыцари Г) монахи

2

Ответ: в**4. О каком народе пишет византийский историк?**

Византийский историк VI в. писал: «Их никоим образом нельзя склонить к рабству или подчинению в собственной стране. Они многочисленны, выносливы, легко переносят жар, холод, дождь, недостаток в пище. К прибывающим к ним иноземцам относятся они ласково и охраняют их в случае надобности... Необходимые для них вещи они зарывают в тайниках, ничем лишним открыто не владеют...»

- А) славяне Б) печенеги В) кривичи Г) варяги

2

Ответ: а**5. Что из нижеперечисленного НЕ является былиной?**

- А) «Алеша Попович и Тугарин Змеевич»
-
- Б) «Бой Добрыни с Дунаем»
-
- В) «Богатыри на Соколе-корабле»

Г) «Повесть временных лет»

Ответ: 1

2

6. По какому принципу образован ряд?
закупы, рядовичи, смерды

0

Ответ: словами

7. Что является лишним в ряду?

Рюрик, Ромул, Синеус, Трувор

3

Ответ: Ромул

8. «Путь из варяг в греки» - это древний водный торговый путь из:

А) Чёрного моря в Средиземное

Б) Азовского моря в Чёрное





2

В) Балтийского моря в Чёрное

Г) Балтийского моря в Средиземное

Ответ: б

9. Перед тобой изображения значимых событий истории. Соотнеси событие и его дату. Ответ запиши в строчку без пробелов и запятых, где буква даты будет соответствовать порядковому номеру события. Например, АБВГ

1	2	3	4
			

А) 1380

Б) 1215

В) 1492

Г) 988

Ответ: 143212151492988

8

10. О каком событии идет речь.

Рыцари двинулись на русских «кабаньей головой». Это был особый строй, не раз приносивший успех крестоносцам. В центре «кабаньей головы» шли, сомкнув

ряды, пехотинцы-кнехты. С боков от них и сзади в 2-3 ряда ехали закованные в латы всадники, кони их тоже имели панцири. Впереди, сужаясь острием, двигались ряды наиболее опытных рыцарей. «Кабанья голова», прозванная русскими «свиньей», таранила врага, прорывала оборону.

- А) Ледовое побоище
- Б) Куликовская битва
- В) Невская битва
- Г) стояние на реке Угре

Ответ: А

2

11. Прочитайте текст и определите, о каком государственном деятеле идет речь в отрывке:

Он уделял много внимания просвещению, переводу книг, созданию библиотек, строительству. При нем были возведены в Киеве Золотые ворота и главный храм горда, поставленный в честь жестокой битвы с печенегами.

- А) Владимир Красное Солнышко
- Б) Ярослав Мудрый
- В) Владимир Мономах
- Г) Юрий Долгорукий

Ответ: В

2

12. Определите пару исторических личностей, которые были современниками:

- А) Иван III – Иван Сусанин
- Б) Иван IV – Дмитрий Донской
- В) Екатерина II – А.В. Суворов
- Г) Ниолай II -Наполеон Бонапарт

Ответ: Б

2

13. Кому из государей посвящены слова А.С.Пушкина?

«То академик, то герой,

То мореплаватель, то плотник,

Он всеобъемлющей душой

На троне вечный был работник».

2


А) Иван III Б) Иван IV **В) Петр I** Г) Павел I

14. Используя все приведённые слова и словосочетания, составьте определения исторических понятий. Назовите эти понятия. Слова и словосочетания не могут использоваться дважды. Разрешается изменять слова по падежам и числам.

Россия землевладение вид поместье в феодальное.

Ответ: Феодальный вид землевладения в России 10

15. Реши ребус. Ответ запиши в именительном падеже. Ответ записать без каких-либо знаков препинания.



Ответ: Крестомосец

16. Соотнесите имена правителей с историческим фактом. Ответ запишите в строчку без пробелов, где имя правителя будет соответствовать порядковому номеру исторического факта. Пример: АГЗИЖДЕ...

- | | |
|--------------------------|---|
| А) Александр Македонский | 1. Организация библиотеки глиняных книг |
| Б) Ашшурбанапал | 2. Создание древнейших законов |
| В) Константин | 3. Строительство самой длинной стены |
| Г) Октавиан Август | 4. Создание новой религии – буддизма |
| Д) Соломон | 5. Строительство храма бога Яхве в Иерусалиме |
| Е) Хаммурапи | 6. Захват единоличной власти в Риме |
| Ж) Царевич Гаутама | 7. Военный поход в Индию |
| З) Цинь Шихуан | 8. Разрешение христианам открыто молиться |

И) Юлий Цезарь 9. Установление империи

Ответ: ~~А, Б, В, Г, Д, Е, Ж, З, И~~ Д, Е, Ж, З, И, А, В, И

18

17. Узнай событие по стихотворным строкам:





Как ныне собирается вещей Олег
Отмстить неразумным хазарам,
Их села и нивы за буйный набег
Обрек он мечам и пожарам.
С дружиной своей, в цареградской броне,
Князь по полю едет на верном коне.

У

А. С. Пушкин

Ответ: Война с кочевниками

18. Рассмотрите изображения правителей и расположите их в порядке управления государством, начиная от самого раннего. Ответ запишите в виде последовательности букв без пробелов и каких-либо знаков препинания, например: бгва

а	б	в	г
			

Ответ: а, в, б, г

У

19. Под какой цифрой на карте обозначен город, которому была посвящена указанная цитата, автором которой является человек, изображённый на картинке?

«Кроме того, я думаю, что Карфаген должен быть разрушен».



Ответ: 1

2

20. Определи понятия по определениям. Найди данные понятия в таблице букв, передвигаясь слева направо и (или) сверху вниз, снизу вверх. Из всех оставшихся незадействованных букв составь слово.

и	с	л	к	р	д	и
с	и	а	м	е	е	т
т	о	р	и	щ	и	и
д	т	о	я	е	н	я
е	у	б	р	о	к	р
р	р	н	и	р	с	о
е	в	н	я	н	а	д

1. Наука, изучающая прошлое человечества.

2. Военное состязание рыцарей.

3. Одна из повинностей зависимых крестьян.

4. Кровнородственное объединение людей.

5. Одна из мировых религий.

6. Событие произошедшее в 988 году связанное с именем князя Владимира.

7. Сельский населенный пункт с несколькими десятками домов.

Ответ: даты

12

855