

Ш71580

**Школьный этап всероссийской олимпиады школьников по обществознанию
Ханты-Мансийский автономный округ – Югра
Березовский район, 2023 -2024 учебный год**

10-11 класс

**Максимальное количество баллов – 68 баллов
Время выполнения работы не более 90 минут**

Уважаемый участник!

При выполнении работы внимательно читайте текст заданий.
Содержание ответа вписывайте в специально отведенный бланк, записи ведите чётко и разборчиво. За каждый правильный ответ Вы можете получить определённое членами жюри количество баллов, не выше указанной максимальной оценки.
Сумма набранных баллов за все решённые вопросы – итог Вашей работы.
Максимальное количество баллов – 68.

Желаем успеха!

*Школьный этап всероссийской олимпиады школьников по обществознанию
Ханты-Мансийский автономный округ – Югра
Березовский район, 2023 -2024 учебный год*

Задание 1. Выберите несколько верных ответов.

А) К признакам постиндустриального общества относятся:

- 1) большинство населения занято в промышленном секторе
- 2) высокая доля умственного высококвалифицированного и творческого труда в структуре трудовых ресурсов
- 3) преобладание коллективистского сознания 1
- 4) власть принадлежит меритократии
- 5) основным фактором производства является капитал (1 балл)

Б) К методам теоретического познания относятся:

- 1) анализ
- 2) эксперимент
- 3) наблюдение 0
- 4) описание
- 5) классификация
- 6) формализация (1 балл)

В) Что из перечисленного относится к проявлениям цикличности в экономике?

- 1) Изменения показателей прироста ВВП
- 2) Учетная ставка эмиссионных банков
- 3) Уровень безработицы 0
- 4) Уровень инфляции
- 5) Размеры денежных сбережений населения (1 балл)

Г) Выборы в государстве Р. проводятся по пропорциональной системе. Это не могут быть выборы:

- 1) Губернатора
- 2) Общенационального парламента 0
- 3) Парламента региона
- 4) Думы муниципального округа
- 5) Мэра столичного города (1 балл)

Д) Как называется в социологии совокупность средств, с помощью которых общество или социальная группа гарантируют конформное поведение его/её членов по отношению к ролевым ожиданиям и основным ценностям общества (группы)?

- 1) Консенсус
- 2) Конформизм
- 3) Социальный контроль 0
- 4) Институциализация
- 5) Социализация (1 балл)

Максимальный балл - 5

Задание 2. Предложите минимальное по объёму обобщающее понятие, вбирающее в себя все нижеперечисленные.

«Дедушко-соседушко!
Домовой мой Хведенька!
Принесла я тебе блюда вкусного,
Блюда сладкого,
Раздели со мной пищу мою».

«Они хранили в жизни мирной
Привычки милой старины;
У них на масленице жирной
Водились русские блины».

«Раз в крещенский вечерок
Девушки гадали:

«Недели две ходила сваха
К моей родне, и наконец

Школьный этап всероссийской олимпиады школьников по обществознанию
Ханты-Мансийский автономный округ – Югра
Березовский район, 2023 -2024 учебный год

За ворота башмачок,
Сняв с ноги, бросали;
Снег пололи; под окном
Слушали; кормили.
Счётным курицу зерном;
Ярый воск топили».

Благословил меня отец.
Я горько плакала со страха,
Мне с плачем косу расплели
Да с пеньем в церковь повели».

3

Устное народное творчество

Максимальный балл - 3

Задание 3. «Да» или «нет»? Если Вы согласны с утверждением, напишите «да», если не согласны – «нет». Внесите свои ответы в таблицу.

1. Республиканская и Демократическая партии в США являются примерами кадровых партий. *нет*
2. Согласно УПК РФ при голосовании присяжных по вопросу о виновности подсудимого в случае равенства голосов подсудимый объявляется оправданным. *да*
3. Инфляция является одним из обязательных признаков экономического кризиса. *да*
4. Результатом восстания декабристов стала вертикальная социальная мобильность участников восстания. *нет*
5. Буддизм, синтоизм, брахманизм возникли в Древнем Китае. *да*
6. Миф о том, что Земля имеет плоскую форму и покоится на трёх китах, является примером лженаучного знания. *да*

Максимальный балл - 6

Задание 4. Решите правовую задачу.

Лишённый родительских прав Глебов платил алименты дочери в срок. Однако, когда он потерял работу, единственным средством к существованию осталась небольшая пенсия, он решил потребовать выплаты алиментов с дочери и подал иск в суд. **Указание статей нормативных правовых актов не требуется от участников.**

- 1) Какое будет принято решение? (2 балла) *Если дочь совершит преступление суд откажет алименты не будет взысканы*
- 2) На основании какого нормативного акта? (2 балла) *Конституция РФ, Семейный кодекс*
- 3) Обоснуйте свой ответ с опорой на действующее законодательство. (4 балла) *миллион прав не освобождает от обязанности*

Максимальный балл - 8

Задание 5. Решите логическую задачу.

Через город Чудесатск с юга на север протекает река, которая делит его на два района: Воображательский (В) и Реалистский (Р). Жители района В всегда лгут, а жители района Р всегда говорят правду. В ближайшее воскресенье в городе состоятся выборы мэра. Сын одного из кандидатов в интервью газете «Новости Чудесатска» признался: «Я поддерживаю кандидатуру своего отца и живу в районе В».

1. В каком районе он живёт на самом деле?
2. Поддерживает ли он кандидатуру своего отца?

Ответы на выбор:

1. Живёт в районе В; поддерживает.
2. Живёт в районе В; не поддерживает.
3. Живёт в районе Р; поддерживает.
4. Живёт в районе Р; не поддерживает.
5. Не живёт ни в районе В, ни в районе Р; поддерживает.
6. Не живёт ни в районе В, ни в районе Р; не поддерживает.

*Школьный этап всероссийской олимпиады школьников по обществознанию
Ханты-Мансийский автономный округ – Югра
Березовский район, 2023 -2024 учебный год*
Максимальный балл - 5

Задание 6. Вставьте вместо пропусков порядковые номера соответствующих слов из предложенного списка. Слова даны в списке в единственном числе, прилагательные в форме мужского рода. Обратите внимание: в списке слов есть и такие, которые в тексте встречаться не должны! Ответ внесите в таблицу.

В настоящее время 1 (А) большинства стран имеет двухуровневую структуру. Верхний уровень системы представлен 20 (Б). На нижнем уровне действуют 6 (В), подразделяющиеся на 17 (Г) и 25 (Д). 18 (Е) денежных знаков страны является прерогативой центрального банка. Если целью деятельности любого коммерческого банка является получение 12 (Ж), то центральный банк функционирует для поддержания стабильности банковской системы. Для борьбы с 5 (З) центральный банк проводит политику регулирования денежной массы, получившую название 4 (И). Её основными элементами являются операции на открытом 13 (К), изменение норм 9 (Л) и ставки 10 (М).

Список терминов:

1. банковская система	11. эмиссия
2. безработица	12. прибыль
3. выручка	13. рынок
4. инвестиционный	14. сбербанк
5. инфляция	15. специализированный
6. коммерческий банк	16. рефинансирование
7. монетарный	17. универсальный
8. налог	18. федеральная резервная система
9. обязательный резерв	19. фискальный
10. отраслевой	20. центральный банк

Максимальный балл - 8

Задание 7. Ознакомьтесь с инфографикой

Великобритания

Данные в % от опрошенных

Что в первую очередь приходит вам в голову, когда вы слышите слово «Великобритания»?

Скрытый вопрос: Приводятся группы на меньше 2%

- 10 Англия, страна
«Англия»; «другая страна»; «за граница, зарубежье»; «за пределами России государство».
- 10 Обилие отрицательные суждения
- 7 Члены королевской семьи, государственные деятели
«Английская королева»; «королева Елизавета II»; «герцогиня»; «королева Виктория»; «Маргарет Тэтчер»; «принц Чарльз и Кейт Миддлтон»; «принцесса Диана»; «принц Чарльз и герцогиня»; «Черчилль».
- 6 Враждебные отношения к России
- 3 Богатая, благополучная страна с развитой экономикой
- 2 Архитектура, памятники культуры
- 2 Лондон, Тауэр

*Школьный этап всероссийской олимпиады школьников по обществознанию
Ханты-Мансийский автономный округ – Югра
Березовский район, 2023 -2024 учебный год*

Если говорить о деятелях английской культуры в области музыки, кино, литературы, живописи, театра, то какие известные имена приходят вам в голову в первую очередь? Назовите, пожалуйста, несколько имён.

Открытый вопрос



У. Шекспир



"Битлз"



*А. Кочан
Дрейль*



Дж. Лондон



У. Черныгь



М. Татчер



*Королева
Елизавета II*



Ф. Меркьюри



Ч. Диккенс



Дж. Байрон



В. Скитт



*Принцесса
Диана*



А. Кристи




Друзис

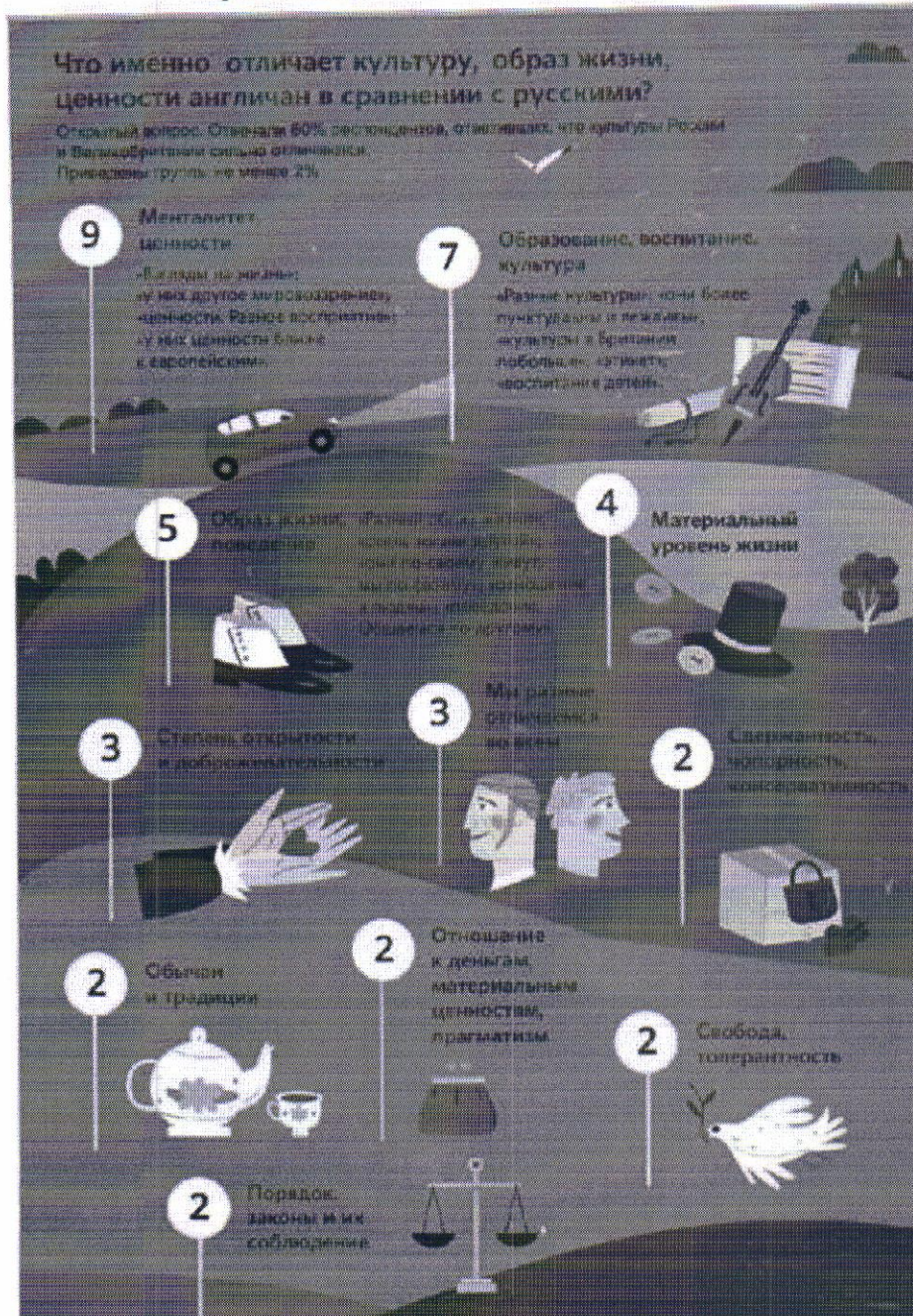
*(Дж. Гальперин, Г. Ричи,
Степан Дж. Рюклин,
К. Ньютон и др.)*



*Затрудняюсь
ответить,
нет ответа*



*Школьный этап всероссийской олимпиады школьников по обществознанию
Ханты-Мансийский автономный округ – Югра
Березовский район, 2023 -2024 учебный год*



А) Выберите верные утверждения на основании информации, содержащейся в инфографике

- 1) 8% респондентов в ответе на один из приведённых вопросов назвали имена политических деятелей.
- 2) Количество опрошенных, считающих Великобританию дружественным государством показывает постоянную отрицательную динамику.
- 3) Около 3/4 опрошенных не знают ни одного деятеля английской культуры
- 4) Около 2% респондентов отмечают наибольшее различие в существующих обычаях и традициях
- 5) Более чем у половины опрошенных никаких ассоциаций с Великобританией нет.

*Школьный этап всероссийской олимпиады школьников по обществознанию
Ханты-Мансийский автономный округ – Югра
Березовский район, 2023 -2024 учебный год*

- 6) Каждый пятидесятый респондент в качестве наибольших различий между жителями России и Великобритании назвал образ жизни.
- 7) 7% всех опрошенных в первую очередь ассоциируют Великобританию с местными институтами власти и государственными деятелями.
- 8) Наблюдается положительная динамика среди тех, кто поменял своё мнение по поводу отношения Великобритании к России.
- 9) У каждого второго опрошенного первой ассоциацией с Великобританией является название столицы этой страны.
- 10) Самым популярным деятелем английской культуры среди респондентов является Уильям Шекспир. (1 балл)

Б) Посчитайте, какой процент опрошенных в качестве отличий называет ценности, которые принято относить к духовной сфере жизни общества.

- 1) 6-12%
- 2) 16-25%
- 3) 26-35%
- 4) 36-45%
- (1 балл)

В) На основании инфографики определите, у какого процента количества респондентов, чьи ассоциации с Великобританией схожи с идеями Иосифа Бродского, изложенными в стихотворении.

Город Лондон прекрасен, в нём всюду идут часы.

Сердце может только отстать от Большого Бена.

Темза катится к морю, разбухшая, точно вена,

И буксиры в Челси дерут басы.

- 1) 0-10%
- 2) 11-20%
- 3) 21-30%
- 4) 31-40%
- (1 балл)

Максимальный балл - 3

Задание 8. Объедините следующие понятия в классификационную схему.

Понятия: 1. социальные права, 2. первое поколение, 3. второе поколение, 4. личные права, 5. третье поколение, 6. экономические права, 7. коллективные права, 8. культурные права, 9. политические права.

**Школьный этап всероссийской олимпиады школьников по обществознанию
Ханты-Мансийский автономный округ – Югра
Березовский район, 2023 -2024 учебный год**



Максимальный балл - 9

Задание 9. Внимательно прочитайте текст и выполните задания к нему.

Таким образом, вся продукция сельского хозяйства могла бы составить по меньшей мере четыре миллиарда, не считая лесоводства, рыболовства и т. д. Мы не учитываем также доходы от домовладений, ренты, рудников, от продукции ремёсел и художеств, судоходства и т. д., которые также будут увеличиваться по мере роста доходов населения. Но самое главное из этих преимуществ, обеспечиваемых земледелием, состоит в том, что оно доставляет сырьё для производства предметов первой необходимости, обеспечивает доходы государю и землевладельцам, десятину – духовенству и прибыли – земледельцам. Именно постоянно воспроизводимые богатства сельского хозяйства служат основой для всех других форм богатства, обеспечивают занятие всем видам профессий, способствуют расцвету торговли, благополучию населения, приводят в движение промышленность и поддерживают процветание нации. Но необходимо ещё очень много для того, чтобы Франция могла воспользоваться всеми этими миллиардами доходов, которые, как мы видели, могли бы быть созданы в ней самой. В настоящее время общая величина ежегодного потребления или ежегодного расхода нации составляет не больше двух миллиардов. Расходы примерно равны доходам, включая сюда оплату рабочей силы, обеспечивающей существование рабочих всех видов профессий. Источником для оплаты всех этих рабочих является продукция земли (за исключением рыболовства, добычи соли и судоходства). Однако доходы, получаемые от судоходства, являются сами по себе очень незначительными, и основным источником доходов от судоходства являются доходы от торговли продуктами нашего земледелия. Сельское хозяйство и торговля всегда рассматриваются как два источника наших богатств. Между тем торговля, так же, как и промышленное производство, представляет собою не что иное, как ответвление сельского хозяйства; но промышленное производство является более обширным и более значительным, чем торговля. Обе эти отрасли существуют только благодаря сельскому хозяйству. Сельское хозяйство доставляет сырьё для промышленности и товары для торговли и оплачивает как ту, так и другую. Торговля и промышленность возвращают

Школьный этап всероссийской олимпиады школьников по обществознанию
Ханты-Мансийский автономный округ – Югра
Березовский район, 2023 -2024 учебный год

полученные ими прибыли сельскому хозяйству, которое возобновляет богатства, ежегодно расходует их и потребляет. Действительно, без продукции наших земель, без доходов и затрат землевладельцев и земледельцев откуда могли бы возникнуть прибыль в торговле и заработная плата рабочих? Представление о том, что торговля имеет своё самостоятельное, отдельное от сельского хозяйства существование, является абстракцией, представляющей собою совершенно бесплодную идею. Доходы являются продуктом земли и человека. Без приложения труда человека земли не представляют никакой ценности. Первоначальными благами, которыми располагает государство, являются люди, земли и скот. Без продукции сельского хозяйства нация не может иметь других источников существования, кроме промышленности и торговли. Но и промышленность и торговля могут существовать в этом случае, только если они поддерживаются иностранными богатствами. Однако такая поддержка является очень ненадёжной и имеет очень ограниченные возможности; она может быть достаточной для очень небольших государств...



1. Какой экономической теории придерживался автор текста? *физиократов* 2
2. Назовите любого представителя данной экономической теории. *В. Мирабо* 2
3. Какая сфера экономической деятельности, по мнению автора текста, является главным источником национального богатства? *сельское хозяйство* 2
4. Приведите три объяснения автором ведущей роли этой сферы экономической деятельности. *1. предовенствие* 2
2. сфера 2
5. С каким экономическим учением фактически полемизирует автор данного текста? *меркантилистов* 2

Максимальный балл - 15

Задание 10. Перед вами картинки, на которых изображены произведения искусства. Разделите изображения на две равные группы в соответствии с отношением этих произведений к пространству и времени.

(8) u

Школьный этап всероссийской олимпиады школьников по обществознанию
Ханты-Мансийский автономный округ – Югра
Березовский район, 2023 -2024 учебный год



Максимальный балл - 6

1. А, Г, Е

2. Б, В, Д. 6

37.